

Сурагчийн нэр:

Эхэлсэн: он сар өдөр



 Харандааны урт: 10 см
 
 Харандааны урт: 9 см
 

1 Уртын хэмжээг бичээрэй.



5 см



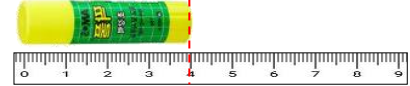
□ см

2 а.



□ см

б.




□ см

2 Ширээний зургийн уртыг шугамаар хэмжээд бичээрэй.




урт □ см



урт □ см

3 Хэрчмийн уртыг шугамаар хэмжиж, жишээрэй.



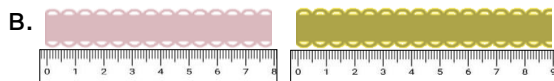
4 Уртын хэмжээг бичээд, жишээрэй.



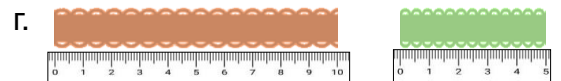
□ см □ см



□ см □ см

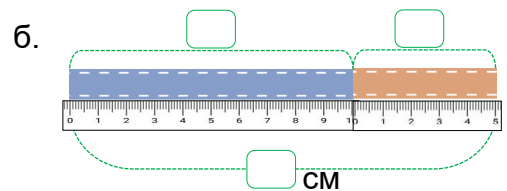
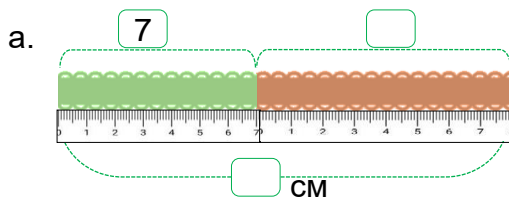


□ см □ см




□ см □ см

5 Уртын хэмжээг бичээд, үйлдлийг гүйцэтгээрэй.



Дууссан:сарөдөр

	Даалгавар	1	2	3	4	5
	Өөрийн үнэлгээ	